

(注意) 答えは解答用紙に書きなさい。特に指定のないものは平がなでよい。

1 次の文章は、関東地方に住んでいる7人の中学生が、自分が住んでいる地域について説明した文です。よく読んで、あとの問いに答えなさい。

野村くん：ぼくが住んでいる地域は、急速に開発が進められました。ぼくのおじいさんの話によると、昔は潮干狩りや海水浴などの行楽の場だったそうです。現在は、①国際会議場や展示会場などもできて、この前、お父さんと「モーターショー」を見に行きました。

田中さん：②私が住んでいる地域は、南北18 km、東西6 kmに広がる270 haという広大な土地に、東京に集中していた政府の機関や大学などの研究機関を移転して築かれました。私のお父さんは、ここにある③地形図の発行で有名な  で働いています。

中村さん：私が住んでいる地域は、江戸時代の末に開かれた貿易港がある都市です。開港されるまでは、小さな漁村でしたが、開港後は④日本を代表する貿易港として発展しました。現在、『みなとみらい21』計画による再開発が続けられています。

高山くん：ぼくが住んでいる地域の近くの⑤丸の内や霞ヶ関には、官公庁や大企業の本社が多く集まっています。そして、⑥新宿・池袋にはデパートなどが多くあります。かつて、ぼくが住んでいる地域から、⑦郊外に移り住む人が増え、人口が減ったため、生徒の数が減り、隣の学校と統合されることがありました。

太田さん：私が住んでいる地域は「下町」といわれています。地域を元気づけようとして、隅田川の河口付近を再開発して、十数年前に、「大川端リバーシティ21」という超高層のマンション群がたちました。永代橋からの景色はとて素晴らしいです。隅田川は、かつて工場排水や生活廃水による⑧公害で汚染されましたが、最近水がきれいになってきて、魚もどってきました。隅田川にかかる橋の多くは、関東大震災後の『帝都復興計画』によって昭和のはじめに完成したものが多く、当時の面影を残しています。昔から、水上交通もさかんです。

沢村くん：ぼくが住んでいる地域は東京のベッドタウンです。ぼくのお父さんもJR埼京線を使って、都庁まで通勤しています。ぼくの県を代表する都市は、県庁所在地の  市で、市内には東北・上越・長野新幹線が分かれる  駅があります。そして、⑨東京向けの野菜栽培で有名な深谷があります。

須山さん：私が住んでいる地域は、江戸時代から周囲に養蚕地帯をひかえる生糸の町として栄えてきました。最近、⑩京浜工業地帯から⑪工場が移転してきて、工場団地が多くつくられ、電機・自動車部品・食品工業などがさかんになりました。「グリーンドーム」という巨大な室内自転車競技場もあります。

(注意) 答えは解答用紙に書きなさい。特に指定のないものは平がなでよい。

問1. 文中の空らん  には機関の名を、 には都市名を、 には駅名をそれぞれ答えなさい。

問2. 下線部①がある地域は、現在は「 新都心」といわれています。地名を漢字2字で答えなさい。

問3. 下線部②について、田中さんの住んでいる県には、日本で第2位の面積を持つ湖があります。その名称を答えなさい。

問4. 下線部③について、地形図の約束について説明した文として、誤っているものを次のア～エから1つ選び、記号で答えなさい。

ア. 等高線の幅が広いところは傾斜がゆるく、せまいところは傾斜が急である。

イ. 等高線の主曲線は、2万5千分の1地形図では20mおき、5万分の1地形図では50mおきにかかっている。

ウ. 縮尺2万5千分の1の地形図の上で、2地点間の距離が6.4cmの場合、実際の距離は1.6kmとなる。

エ. 地形図は、とくに方位を示す印がないかぎり、ふつう上が北をあらわす。

問5. 下線部④について、下の表はこの港から輸出入されている貿易品目をあらわしたものです。(a) (b) にあてはまる貿易品目の組み合わせとして正しいものを次のア～エから1つ選び、記号で答えなさい。

この港の主な貿易品目

輸出品目	百万円	%	輸入品目	百万円	%
(a)	1,533,460	19.7	(b)	492,393	12.7
自動車部品	524,842	6.7	アルミニウム	277,830	7.2
建設・鉱山用機械	369,746	4.7	液化ガス	185,450	4.8
内燃機関	312,970	4.0	衣類	179,758	4.6
プラスチック	279,674	3.6	有機化合物	83,335	2.2
その他	4,777,258	61.3	その他	2,650,074	68.5
計	7,797,950	100.0	計	3,868,840	100.0

(『日本国勢図会』2008/09より)

ア. (a) - 集積回路      (b) - 石油      イ. (a) - 集積回路      (b) - 魚介類  
ウ. (a) - 魚介類      (b) - 鉄鋼      エ. (a) - 自動車      (b) - 石油

問6. 下線部⑤について、「都心三区」とよばれる地域には官公庁や大企業の本社が多く集まっていますが、この「都心三区」の範囲は、中央区・港区とあと一つは何区ですか。区名を答えなさい。

問7. 下線部⑥について、この地域の持ちようとして、あてはまるものを次のア～オから1つ選び、記号で答えなさい。

ア. 小さな町工場が立ち並んでいる工業地区

イ. 古本屋が立ち並ぶ書店街

ウ. 卸売業がさかんな問屋街

エ. 交通のターミナル

オ. 豊かな森林や田畑が残っている緑地地帯

問8. 下線部⑦のように、都市の中心部の人口が減少し、郊外の人口が増加する現象を一般的に何というか答えなさい。

(注意) 答えは解答用紙に書きなさい。特に指定のないものは平がなでよい。

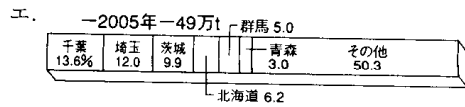
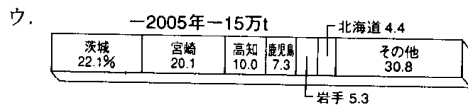
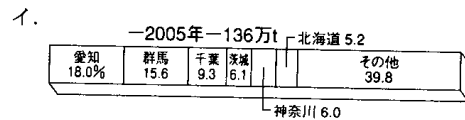
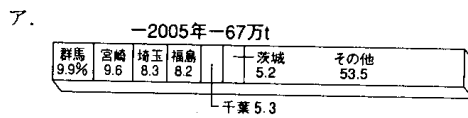
問9. 下線部⑧について、公害(環境)問題について説明した下の文の空らん a・b にあてはまる語句をカタカナで答えなさい。

近年、都市部では、気温が郊外に比べて高くなる a 現象がおきていて、特に大都市では、夏に局地的な雷雲が発生し、突発的な激しい雨が降って道路が浸水したりすることが多くなっています。これも、a 現象が原因になっていると考えられています。さらに、夏には光化学スモッグが多く発生しています。

また、物をたくさんつくって、たくさん買って、たくさん捨てる『大量生産・大量消費型社会』が生み出したものにゴミ問題があります。現在、できるだけゴミを出さない『循環型社会』をつくるために、さまざまな分野で b (ゴミを減らすこと)、リユース(商品を何度も使用すること)、リサイクル(ゴミを資源として再利用すること)がすすめられています。

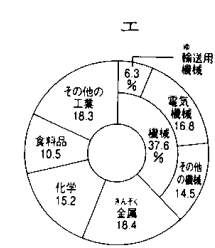
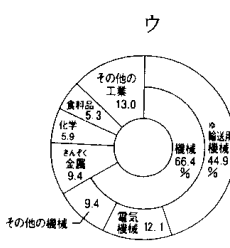
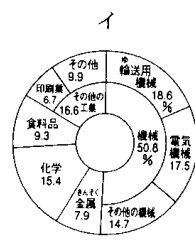
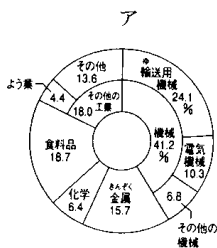
(『日本のすがた2007』より)

問10. 下線部⑨の近郊農業について、キャベツの生産を示すグラフを次のア～エから1つ選び、記号で答えなさい。  
(t数は生産量を示す)



(『農林水産統計速報』ほか、より)

問11. 下線部⑩に関して、京浜工業地帯の工業製品出荷額の割合を示すグラフを次のア～エから1つ選び、記号で答えなさい。



(『日本のすがた2007』より)

問12. 下線部⑪について、京浜工業地帯などから内陸部の都市に工場が移転している理由として誤っているものを次のア～エから1つ選び、記号で答えなさい。

- ア. 東京や横浜の地価が高く、広い工場用地が得られないため。
- イ. 東京や横浜は住宅が多く立ち並び、工場周辺の住民から、工場に出入りするトラックの排気ガスや騒音などの苦情が多く寄せられるため。
- ウ. 内陸部は機械製品の輸送に便利な鉄道網が充実しているため。
- エ. 内陸部の自治体が、地元の人が働く場所をつくるために、工場用地を準備したため。

(注意) 答えは解答用紙に書きなさい。特に指定のないものは平がなでよい。

2 次の文章を読んで、あとの問いに答えなさい。

(A) 縄文式土器や磨製石器に代表される縄文文化の後、紀元前4世紀はじめ頃には西日本に①米作りを中心とする弥生文化が成立し、さらに東日本から東北にまで広まった。弥生時代には20戸程度からなる集落があらわれ、まわりに深いほりや土塁をめぐらした②環濠集落も多く作られた。その後、小国の分立を経て、卑弥呼を中心とする邪馬台国連合が成立した。4世紀頃には奈良盆地を中心に大和朝廷が成立し、③大王は朝鮮半島における権威を高めるために積極的に中国に使者を派遣した。その後、大化の改新を経て、律令国家への歩みを進めた。国家体制の整備とともに国史の編さんが行われ、平行して④万葉集や風土記も編さんされた。また、奈良時代は国家によって仏教の保護が行われ、⑤中国から来日した僧も仏教の発展に貢献した。10世紀に入ると、それまでに吸収した中国文化を土台として⑥国風文化が開いた。

問1. 下線部①について、縄文後期から弥生初期にかけて、米作りが行われていたことを示す福岡県にある遺跡名を次のア～エから1つ選び、記号で答えなさい。

ア. 登呂遺跡      イ. 荒神谷遺跡      ウ. 菜畑遺跡      エ. 板付遺跡

問2. 下線部②について、吉野ヶ里遺跡に代表される環濠集落の存在から当時のどのような状況が推測できるか、簡単に答えなさい。

問3. 下線部③について、埼玉県稲荷山古墳出土の鉄剣にその名がきざまれていた天皇は誰か、漢字で答えなさい。

問4. 下線部④について、万葉集には天皇、貴族だけでなく兵士や農民がよんだ歌が多く収められていますが、九州を守る役目をおった兵士は何と呼ばれたか、漢字で答えなさい。

問5. 下線部⑤について、唐から来日した僧である鑑真が開いた奈良県にある寺を何といいますか、漢字で答えなさい。

問6. 下線部⑥について、国風文化について説明した文として、正しいものを次のア～エから1つ選び、記号で答えなさい。

ア. かな文字が主に女性の間で使われ、すぐれた日記や物語が数多く生み出された。  
イ. 清少納言が『徒然草』の中で宮廷生活の体験を随筆風に書いた。  
ウ. 国風文化が栄えたのは菅原道真が遣隋使の中止を提案したことに原因があった。  
エ. 貴族の住宅は書院造と呼ばれる日本の建築であった。

(B) 源頼朝は12世紀後半に平氏を滅ぼし、1192年に征夷大將軍に任命され、⑦鎌倉幕府を開いた。その後、北条氏による執権政治が行われ、⑧院政をめざす朝廷側と争いがおき、幕府側が勝利した。14世紀に鎌倉幕府が倒れた後は足利氏が京都に幕府を開き、その室町時代に現在にまで伝わる⑨様々な文化が栄えた。17世紀になり徳川幕府が成立すると、歴代將軍は⑩武家諸法度を通じて権力強化を目指した。また江戸を起点に⑪五街道が作られ、海路とあわせて交通網の整備が行われ、江戸や京都からの様々な文化が諸地方へと伝わった。外交面では⑫鎖国体制をとっていたものの、長崎などを通じて⑬外国文化の吸収は行われており、完全に文化や情報を閉ざしたわけではなかった。

問7. 下線部⑦について、鎌倉時代の出来事を説明した文として、正しいものを次のア～エから1つ選び、記号で答えなさい。

ア. 法然が宋から学んだ座禪により、悟りをひらく禪宗を日本各地にひろめた。  
イ. 朝廷の統制と西国御家人の監視のために京都所司代を設置した。  
ウ. 北条時宗率いる御家人の活躍もあり、文永の役、弘安の役といわれる2度の元軍の襲来を退けた。  
エ. 明と勘合貿易を行い、金や刀剣を輸出し、生糸や陶磁器を輸入した。

(注意) 答えは解答用紙に書きなさい。特に指定のないものは平がなでよい。

問8. 下線部⑧について、1221年に起きたこの争いを何と言うか、漢字で答えなさい。

問9. 下線部⑨について、室町時代の文化とその発展に関係した人物の組み合わせとして、誤っているものを次のア～エから1つ選び、記号で答えなさい。

- ア. わび茶わび茶－狩野永徳かのうえいとく
- イ. 能ぜあみ－世阿弥ぜあみ
- ウ. 水墨画せつしゆゑ－雪舟せつしゆゑ
- エ. 連歌れんが－宗祇そうぎ

問10. 下線部⑩について、下記の武家諸法度の内容に関し、空らん a ～ d にあてはまる語句として正しい組み合わせを次のア～エから1つ選び、記号で答えなさい。

- ・大名は、毎年4月に a 交代すること。
- ・自国の b を修理する場合、とどけ出ること。
- ・将軍の許可無しに、大名の家どうして c してはいけない。
- ・大きな d をつくってはいけない。

- ア. a 参勤さんきん b 船 c 結婚 d 城
- イ. a 参勤 b 城 c 貿易 d 船
- ウ. a 領地 b 城 c 貿易 d 城
- エ. a 参勤 b 城 c 結婚 d 船

問11. 下線部⑪について、五街道に含まれないものを次のア～カから1つ選び、記号で答えなさい。

- ア. 中山道
- イ. 山陽道
- ウ. 奥州街道
- エ. 東海道
- オ. 甲州街道
- カ. 日光街道

問12. 下線部⑫について、鎖国体制においても幕府と交流をしていなかった国を次のア～エから1つ選び、記号で答えなさい。

- ア. 朝鮮
- イ. 琉球
- ウ. オランダ
- エ. スペイン

問13. 下線部⑬について、杉田玄白すぎたげんぱくらがオランダ語の医学書ほんやくを翻訳して出版した書物名を漢字で答えなさい。

(C) 江戸時代も後期になると、⑭三大改革の効果が薄く、幕藩体制ぼくはんたいせいに動揺どうようが見られた。さらに1853年に⑮ペリーが軍艦4せきを率いて来日し、日本に開国を要求した。翌年、日本は圧力に屈して日米和親条約を結び、鎖国体制に終止符がうたれた。明治維新の中で日本は列強のすぐれた⑯技術の導入れつききうを図り、政治の面でも、⑰憲法の制定を行い、近代国家成立を目指した。

また富国強兵をすすめた日本は1894年に朝鮮半島をめぐり、清国と戦争を行い、1904年には⑱日露戦争を開始した。⑲1930年代に入り、日本は中国大陸への進出を図る中で、中国との対立姿勢を深め、日中戦争、その後太平洋戦争へと突入していった。終戦後、日本は戦後復興から⑳1960年代を中心とする高度経済成長期を経て、経済大国としての地位を築いていった。

問14. 下線部⑱について、江戸時代の三大改革について説明した文として、誤っているものを次のア～エから1つ選び、記号で答えなさい。

- ア. 松平定信が行った寛政の改革では、都市に流入した農村出身者の帰村を奨励しょうれいした。
- イ. 田沼意次が行った天保の改革では、物価を下げるために株仲間かぶなかまを解散した。
- ウ. 徳川吉宗が行った享保の改革では、新田開発を奨励して年貢増加を図った。
- エ. 三大改革が行われたのは享保、寛政、天保の順である。

問15. 下線部㉑について、1853年に幕府に開国を求めてペリーが来航した場所を次のア～エから1つ選び、記号で答えなさい。

- ア. 兵庫
- イ. 広島
- ウ. 浦賀
- エ. 箱館 (函館)

(注意) 答えは解答用紙に書きなさい。特に指定のないものは平がなでよい。

問16. 下線部㉑について、当時日本は外国人の技術者や教師を招き、進んだ技術や知識を教わっていた。以下にあげる人物名と行動の組み合わせとして、誤っているものを次のア～エから1つ選び、記号で答えなさい。さらに正しい人物名を答えなさい。

	人物名	行 動
ア	クラーク	アメリカから招かれ、札幌農学校教頭を務める。
イ	フェノロサ	日本美術を高く評価し、東京美術学校設立にかかわった。
ウ	ブリューナ	フランスから招かれ、富岡製糸場の建設にかかわる。
エ	ナウマン	アメリカ人動物学者で、大森貝塚を発見した。

問17. 下線部㉒について、大日本帝国憲法について説明した文として、正しいものを次のア～エから1つ選び、記号で答えなさい。

- ア. 皇帝の権限が強いドイツの憲法を参考にして作られた。
- イ. 1890年11月29日に発布された。
- ウ. 主権は内閣総理大臣にあると定められている。
- エ. 帝国議会は衆議院と参議院の2院制からなると定められている。

問18. 下線部㉓について、日露戦争中に「君死にたまふことなかれ」という一節で有名な詩を発表した人物は誰ですか、漢字で答えなさい。

問19. 下線部㉔について、1930年代の出来事について説明したa～dの文を年代順に正しく並び替えたものを、次のア～エから1つ選び、記号で答えなさい。

- |   |   |
|---|---|
| a | 北京郊外の盧溝橋 <small>ろこうきょう</small> 付近で日中両軍が衝突した。            |
| b | 満州の主要地域を占領し、満州国を建国した。                                   |
| c | 日本が国際連盟を脱退した。   |
| d | 南満州鉄道 <small>みなみまんしゅう</small> を破壊し、それをきっかけに中国へ軍事行動をとった。 |

- ア. b→d→c→a      イ. d→b→c→a      ウ. a→b→d→c      エ. a→d→c→b

問20. 下線部㉕について、1960年代の出来事について説明した文として、誤っているものを次のア～エから1つ選び、記号で答えなさい。

- ア. 池田いけだ勇人内閣が「所得倍増」のスローガンを掲げ、高度経済成長たいうけいせいせいしんを推進した。
- イ. 四日市よひしぜんそくに代表される様々な公害問題に対応するため、公害対策基本法が制定された。
- ウ. 白黒テレビ、洗濯機、電気掃除機が「三種の神器」と言われ、各家庭に急速に普及した。
- エ. 1964年にアジアで初のオリンピックである東京オリンピックが開催された。

(注意) 答えは解答用紙に書きなさい。特に指定のないものは平がなでよい。

3 次の文章を読んで、あとの問いに答えなさい。

昨年7月に北海道  湖において①G8サミット(先進国首脳会議)が開かれ、②環境・気候変動、③開発・アフリカ、④世界経済、⑤政治問題などについて話し合いが行われました。それらは、私たちの日々の生活に深く関わっていることであり、私たちは⑥世界中のあらゆる問題に関心を持ち意見を述べ、行動に移すことができる人間になることが大切ではないでしょうか。

日本では満20歳で選挙権が、その後満  歳で衆議院議員の被選挙権を得ることができます。しかし、それまでに⑦政治の仕組みや選挙についての知識などを学ばなければなりません。そのためには学校での勉強はもちろんですが、日頃のニュースなどから社会的出来事きょうじに興味を持ち、ボランティア活動に参加したり、また歴史を学ぶことも未来を予測して今何をすべきかを考える良い機会となるでしょう。このように毎日の生活すべてが勉強となり、一人ひとりの絶え間ない努力が明るい未来につながることを忘れないでください。

問1. 空らん  ・  にあてはまる語句を答えなさい。

問2. 下線部①について、サミットについて説明した文として正しいものを次のア～エから1つ選び、記号で答えなさい。正しいものがなければ(オ)と答えなさい。

ア. 日本、アメリカ、イギリス、フランス、ドイツ、イタリア、韓国、ロシアの首脳が集まるのでG8と呼ばれている。

イ. 4年に1回開かれ、議長国は立候補した国の中から抽選で決まる。

ウ. 昨年7月のサミットで日本は2000年の九州・沖縄サミット以来の議長国を務め、麻生総理大臣が最後に声明を発表した。

エ. 会議の声明文は国際法として適用され、国際連合に参加しているすべての国が守らなければならない。

問3. 下線部②について、次の問いに答えなさい。

(1) 地球温暖化に関係する二酸化炭素(CO<sub>2</sub>)などの温室効果ガスについて話し合いが行われました。温暖化対策について説明した文として正しいものを次のア～エから1つ選び、記号で答えなさい。正しいものがなければ(オ)と答えなさい。

ア. 温室効果ガスを減らす目標を定めた1997年の京都議定書ぎょうていしょで、2012年までにCO<sub>2</sub>排出量はいしゅつりょうを日本は1990年よりも6%、アメリカは10%減らすことを約束し、削減に向けて努力している。

イ. 世界全体のCO<sub>2</sub>は目標の削減数値をすでに上回るほど順調に減っていて、日本も2050年までにこの問題の解決を目指した「クールアース50」を提案した。

ウ. 日本は毎年CO<sub>2</sub>主要排出国の上位2位以内に入っているため、この問題を世界のリーダーとして考える責任がある。

エ. 日本の太陽光発電や電気自動車などの優れた環境技術を、世界に広げることでも温暖化防止に役立つと考えられている。

(2) 平成19年に提案された京都議定書の目標達成に向けた国民運動標語の  に入る語句を次のア～エから1つ選び、記号で答えなさい。

『1人1日1  CO<sub>2</sub>削減』

ア. ミリグラム      イ. グラム      ウ. キログラム      エ. トン

問4. 下線部③について、次の文章の空らん  にあてはまる数字を次のア～エから1つ選び、記号で答えなさい。

世界190を超える国や地域の中で、開発途上国といわれる国・地域の数は約  余りであり、世界の人口の8割以上が暮らしている。また、その中でも後発開発途上国には学校に通えない子供や安全な水が使えない人が多く含まれている。

ア. 60      イ. 90      ウ. 120      エ. 150

(注意) 答えは解答用紙に書きなさい。特に指定のないものは平がなでよい。

問5. 下線部④について、日本の物価が世界経済の影響を受ける原因の一つに原油の輸入がありますが、他には食料の輸入などがあげられます。自分の国で消費する食料をどの程度国内で生産し供給しているかを示す割合を何とといいますか、漢字5字で答えなさい。

問6. 下線部⑤について、世界の平和と安全を守るために「核兵器」について話し合いが行われましたが、核兵器に関連した文として正しいものを次のア～エから1つ選び、記号で答えなさい。正しいものがなければ(オ)と答えなさい。

- ア. 日本は第二次世界大戦において、他の2カ国とともに原子爆弾を投下された経験を持つ被爆国のひとつである。
- イ. 核兵器をアメリカ・イギリス・フランス・ロシア・中国以外の国が持つことがないようにするため、1968年に「核兵器のひろがりを防ぐ条約」(NPT)が作られ、世界はこれを守って今日まで核保有国は増えず平和を維持している。
- ウ. 日本は1968年に「作らず、持たず、持ち込ませず」の非核三原則を田中内閣のもとで定め、田中首相はノーベル平和賞を受賞した。
- エ. 原子力の軍事的利用を防止し、平和的利用のために設立された国際的協力機構を国際原子力機関(IAEA)と言う。

問7. 下線部⑥について、(1)北方領土問題 (2)竹島問題 の説明文をア～エからそれぞれ1つ選び、記号で答え、また空らん□にあてはまる語句をそれぞれ答えなさい。

- ア. アルゼンチンと□がフォークランド諸島を巡り武力衝突に発展した問題。
- イ. 沖縄県石垣島の南の無人島の領土権を巡り、中国、□、香港を巻き込んだ問題。
- ウ. 島根県隠岐島の北西にある2つの島と岩礁の領有権を巡る□との問題。
- エ. ロシアによって占領されている領土である歯舞、□、国後、択捉の返還問題。

問8. 下線部⑦について、次の会話文を読みあとの問いに答えなさい。

生徒—野党が与党に対して「□a□して民意を問うべき」という発言を耳にしますがどういう意味ですか？  
先生—与党の政治に国民が満足しているかどうかを選挙で確かめようということです。一般的には□a□して□b□議院の選挙を行えば、国民が与党の政治に満足していない、または反対しているのなら野党の議員が多数当選するだろうし、満足していれば逆が考えられるでしょう。結果としては総議席の過半数が取れるかどうかだね。①内閣総理大臣の指名に大きな影響があるからね。

生徒—□a□があるのも②□b□議院の優越が認められている理由の一つなのでしょう。

先生—そうですよ。また、□a□には2つのケースがあるんですよ。

生徒—③憲法第7条と69条に基づくものですね。

先生—よく勉強していますね。

- (1) □a□・□b□に適する語句を漢字で答えなさい。
- (2) 下線部①について、行政部の首長が議会の信任で選ばれる日本やイギリスに見られる政治制度を何と申しますか、漢字5字で答えなさい。
- (3) 下線部②について、□b□議院の優越にあたらぬものを1つ選び、記号で答えなさい。すべてあてはまれば(オ)と答えなさい。  
ア. 予算の議決    イ. 違憲立法審査権    ウ. 条約の承認    エ. 法律案の再議決
- (4) 下線部③について、第7条は「天皇の国事行為」ですが、国事行為にあたらぬものを次のア～エから1つ選び、記号で答えなさい。すべてあてはまれば(オ)と答えなさい。  
ア. 最高裁判所長官を指名すること    イ. 憲法改正、法律、政令及び条約を公布すること  
ウ. 栄典を授与すること    エ. 国会を召集すること

解答用紙

1

問1			問2	
1	2	3		
問3			問4	問5
			問6	問7
			区	
問8		問9		
		a	b	
問10	問11	問12	小計	

2

問1	問2			問3	
問4		問5	問6	問7	問8
					の乱
問9	問10	問11	問12	問13	問14
問16		問17	問18	問19	問20
記号	人物名				
					小計

3

問1		問2	問3		問4
1	2		(1)	(2)	
問5		問6	問7		
			(1)		
		記号	語句		
問7		問8			
(2)		(1)		(2)	
記号	語句	a	b		
問8		小計			
(3)	(4)				
受験番号			得点		