

(注意) 答えは解答用紙に書きなさい。特に指定のないものは平がなでよい。

1 次の文章を読んで、あとの問いに答えなさい。

日本列島は、太平洋を取り囲むように連なる火山帯の中にあり、大小の島々から構成されている。日本列島を全体的にみると、山がちで平野が狭いといえるが、地形は①都道府県ごとにみると地域差もみられる。

日本列島を2つに分ける時には、一般的に「東日本」「西日本」と呼ぶことが多いが、これは本州の中央部に 1 と呼ばれる溝があるため、その溝の西端は糸魚川-静岡構造線と呼ばれている。この構造線は 2 湖付近で、西日本を2つに分ける別の構造線と交わっている。日本列島の各地には、今後も活動が続くと考えられる断層が分布し、地震の震源にもなっている。また、②火山活動も活発で災害が起こることも多いが、その一方で人間生活にとつての利点もある。

日本の気候は、全体的に季節の変化がはっきりしている。冬は大陸からの冷たく乾燥した風が吹き込んで寒冷となり、夏は太平洋からの暖かく湿った風が吹き込んで蒸し暑くなる。また、初夏には大陸からの冷たい空気と太平洋からの暖かい風が日本上空でぶつかり合うことで、雨の降りやすい状態が続く 3 が起こる。日本列島は南北に長いことから、③地域の違いによる気候の差も大きく、日本周辺を流れる海流の影響も無視できない。このように地域によって異なる気候を反映して、日本ではさまざまな④気象災害も生じており、近年は⑤集中豪雨による都市部の浸水被害も問題となっている。

問1. 空らん 1 ~ 3 に適する語句を答えなさい。ただし、1 はカタカナ、2・3 は漢字で答えなさい。

問2. 下線部①について、次の【表1】は全国と大分県、千葉県、宮城県、和歌山県における地形別の面積割合を示したものです。大分県にあてはまるものを【表1】のA~Eから1つ選び、記号で答えなさい。

【表1】

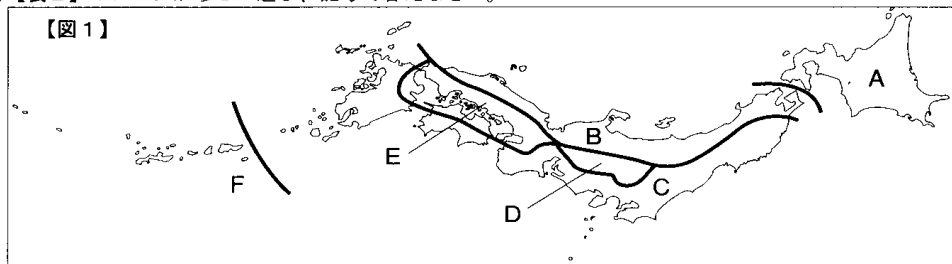
	山地	火山地	丘陵	台地	平地
全国	55.2	7.6	12.0	11.3	13.9
A	81.5	0.0	8.2	3.9	6.4
I	38.1	41.5	3.9	7.3	9.0
ウ	23.5	7.2	37.3	8.3	23.6
E	7.3	0.0	31.2	32.3	28.8

(単位は%、『統計でみる日本2007』より)

問3. 下線部②について、火山活動がもたらす主な利点は温泉ですが、温泉以外に考えられる火山活動の利用法としてどのようなことが考えられますか。利用法に関連する地図記号を次のA~オから1つ選び、その地図記号の名称を漢字で答えなさい。

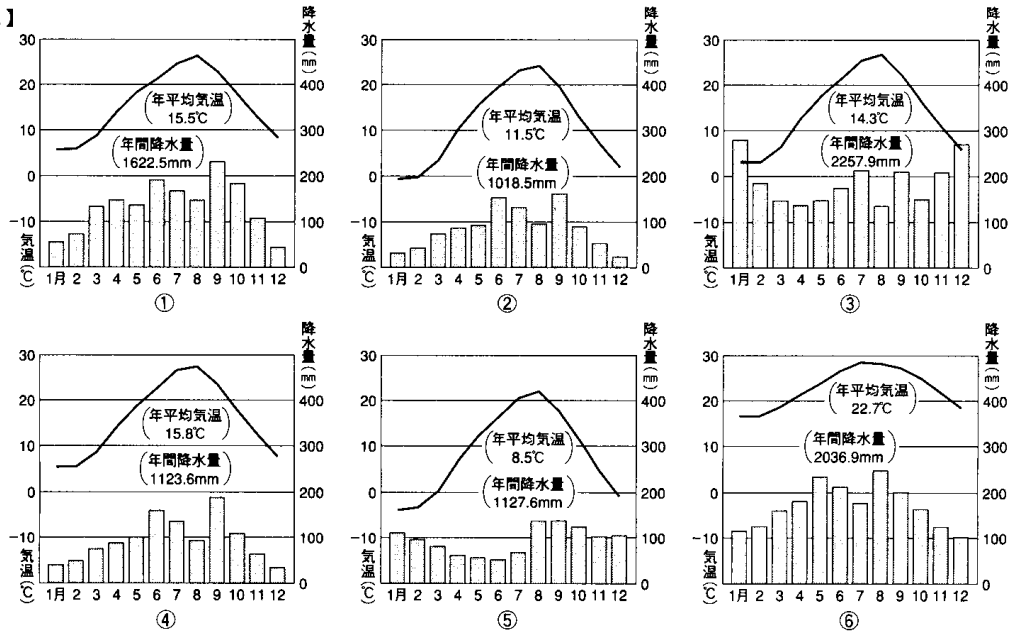


問4. 下線部③について、次の【図1】は日本の6つの気候区分を示したものです。【図2】の①~⑥は【図1】中のA~Fの地域の代表的な雨温図です。【図1】中のB・C・Eの気候区分にあてはまる雨温図の組み合わせを【表2】のA~Kから1つ選び、記号で答えなさい。



(注意) 答えは解答用紙に書きなさい。特に指定のないものは平がなでよい。

【図2】



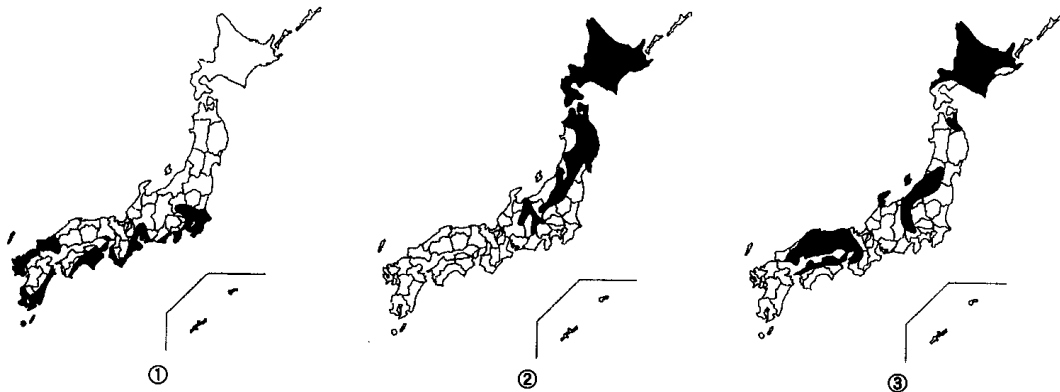
(『日本のすがた2008』より。気温・降水量は1971～2000年の平均値。)

【表2】

	ア	イ	ウ	エ	オ	カ	キ	ク
B	③	③	③	③	⑤	⑤	⑤	⑤
C	①	①	②	②	①	①	②	②
E	②	④	④	⑤	②	④	④	⑥

問5. 下線部④について、【図3】は日本で気象災害が起こりやすい地域を示したものです。これらの気象災害の名称の正しい組み合わせを【表3】のア～カから1つ選び、記号で答えなさい。

【図3】



(『新詳地理資料 COMPLETE 2008』より)

平成21年度

東 京 都 市 大 学 付 属 中 学 校
入 学 試 験 問 題 (第1回)

社 会
(7-3)

(注意) 答えは解答用紙に書きなさい。特に指定のないものは平がなでよい。

【表3】

	①	②	③
ア	干 害	台 風	冷 害
イ	干 害	冷 害	台 風
ウ	台 風	干 害	冷 害
エ	台 風	冷 害	干 害
オ	冷 害	干 害	台 風
カ	冷 害	台 風	干 害

(注意) 答えは解答用紙に書きなさい。特に指定のないものは平がなでよい。

2 成庫君は、歴史上の好きな人物に関する事柄について、カードにまとめてみました。以下の〈A〉～〈D〉のカードの文面をよく読み、あとの問いに答えなさい。

<p>〈A〉 長州藩出身の政治家であり、若き日には吉田松陰の松下村塾で学ぶ。①明治時代になると、岩倉具視と共に米欧を回覧し、国内の充実を訴える。憲法制定のために尽力し、国会開設前に内閣制度を確立させ、初代内閣総理大臣として就任する。 初代韓国統監となるも、急激な韓国併合には反対の立場であり、最期は、ハルビンにて安重根に暗殺された。</p>	<p>〈B〉 伊豆を本拠地とする豪族の娘で、②鎌倉幕府初代将軍の妻となった。初代将軍との間に生まれた息子二人が暗殺された後は、弟と共に朝廷の軍を撃破し幕府の勢力をさらに強力にした。この時に御家人たちに対しておこなった演説は、非常に有名である。弟が死んだ後は、③甥を盛り立て一族の政治体制を固めて、この世を去った。</p>
<p>〈C〉 894年に遣唐使の廃止を提案したことで有名である。学者の家の出身だが、異例の出世を果たして右大臣になる。しかし、左大臣であった藤原時平の陰謀により、大宰府に流されてしまった。 漢詩文の分野では、④平安時代を代表する人物でもあり、現在は、学問の神様として太宰府天満宮に祭られている。</p>	<p>〈D〉 広島県出身で、京都大学を卒業した後は大蔵省(現・財務省)に入省。大蔵大臣の時に「貧乏人は麦を食え」と発言し、反発を招いたこともある。日米安保で揺れた岸信介の後を受けて内閣総理大臣に就任。1960(昭和35)年に国民所得倍増計画を発表し、日本経済は飛躍的な発展を遂げることになった。オリンピック閉会式の翌日に辞職し、後を⑥岸信介の弟に託した。</p>

問1. 以下は、カード〈A〉の人物が出席した条約に関する文章です。文中の空らん 1 ～ 4 にあてはまる答えを、それぞれア～エから1つ選び、記号で答えなさい。

日清戦争の講和条約は、1 で締結され、日本全権としてカード〈A〉の人物と外務大臣の 2 が出席した。この条約で日本は莫大な賠償金と遼東半島、3 を領土として獲得した。賠償金の大半は軍備増強に用いられ、一部は後に北九州の八幡製鉄所建設に使われた。条約締結後に、遼東半島はロシア、フランス、4 からの圧力により清国に返還された。

- 空らん 1 …… ア. 福岡県 イ. 山口県 ウ. 広島県 エ. 長崎県
- 空らん 2 …… ア. 小村寿太郎 イ. 東郷平八郎 ウ. 井上馨 エ. 陸奥宗光
- 空らん 3 …… ア. 台湾 イ. 樺太の南半分 ウ. 山東半島 エ. 朝鮮半島
- 空らん 4 …… ア. オランダ イ. アメリカ ウ. ドイツ エ. イタリア

問2. カード〈A〉内の下線部①を説明した文として、誤っているものを次のア～エから1つ選び、記号で答えなさい。すべて正しければ(オ)と答えなさい。

- ア. 国会開設の詔が出されると、板垣退助はフランス流の政党を、大隈重信はイギリス流の政党を組織した。
- イ. 第1回衆議院議員選挙が実施された。この時の選挙権は、25歳以上の男子で直接国税15円以上を納付している者のみに認められた。
- ウ. 欧米の文化を採り入れたことによってライフスタイルにも変化が現れ、太陽暦、ガス灯、ランプの使用やラジオ放送が関東圏で始まった。また新橋・横浜間に鉄道も開設された。
- エ. 確実な徴税を行うために、江戸時代の年貢から地価の3%を金納させる地租改正を断行した。しかしながら、小作農の負担は重くなってしまったので、地租改正反対一揆が起り、政府は地租を2.5%に引き下げた。

(注意) 答えは解答用紙に書きなさい。特に指定のないものは平がなでよい。

問3. カード〈B〉内の下線部②について、鎌倉時代を説明した文として、誤っているものを次のア～エから1つ選び、記号で答えなさい。すべて正しければ(オ)と答えなさい。

- ア. この時代の中頃に、中国を強大な力で統一した元が襲来してきた。1回目の襲来である文永の役の後に、石塁を築き北九州の防御を強化した。1回目の襲来も、2回目の襲来である弘安の役も暴風雨により元軍は撤退した。
- イ. 武士に支持された宗教として禅宗が挙げられる。特にこの時代は、宋で学んだ道元が臨済宗を、同じく宋で学んだ栄西が曹洞宗を開いた。栄西は、茶を持ち帰った事でも有名である。
- ウ. 鎌倉時代は、輸入された宋銭が利用され商工業が発展した。商取引も行われるようになり三斉市が開かれ、高い利子でお金を貸す者や運送業者が発達した。
- エ. 文学の世界では、新たな動きが見られた。随筆の代表格として鴨長明の『方丈記』や吉田兼好の『徒然草』があげられる。武士の中にも学問や歌に励む者がおり、鎌倉幕府3代将軍は『金槐和歌集』を残した。

問4. カード〈B〉内の下線部③の人物が武士を対象に初めて制定した法律の名称を漢字で答えなさい。

問5. カード〈C〉の人名を漢字で答えなさい。

問6. カード〈C〉内の下線部④について、あとの問いに答えなさい。

(1) カード〈C〉内の下線部④を説明した文として、誤っているものを次のア～エから1つ選び、記号で答えなさい。すべて正しければ(オ)と答えなさい。

- ア. 三代にわたって土地の私有を認める法が出されるが、口分田の不足を解決することが出来なかった。そのため、朝廷は開墾した土地を永久に私有してもよい法律を出した。
- イ. 東北地方の支配を確実にするため、桓武天皇は坂上田村麻呂を征夷大將軍に任命し、蝦夷を討伐した。
- ウ. 仏教の世界では、唐から帰国した最澄が比叡山にて天台宗を開いた。一方で書家としても有名な空海は高野山にて真言宗を開いた。
- エ. 摂関政治の全盛期は藤原道長、頼通親子の時である。道長は「この世をば〜」から始まる歌を残し、自分の権力を示した。頼通は宇治に平等院鳳凰堂を建築した。

(2) カード〈C〉内の下線部④の文化を代表する作品として誤っているものを次のア～エから1つ選び、記号で答えなさい。すべて正しければ(オ)と答えなさい。

- ア. 源氏物語 イ. 土佐日記 ウ. 枕草子 エ. 古今和歌集

問7. カード〈D〉内の下線部⑤の時代に起きた次のア～オの出来事を年代順に正しく並べかえなさい。

- ア. 朝鮮半島で、大韓民国と朝鮮民主主義人民共和国による戦争が勃発した。
- イ. 原加盟国を51カ国とする国際連合が発足した。
- ウ. 国の負担を減らすために、電電公社をNTT、専売公社をJTとして民営化させた。
- エ. 第4次中東戦争をきっかけに石油危機が起こり、日本の高度経済成長が止まってしまった。
- オ. 鳩山一郎首相によってソ連との国交が回復した。

問8. カード〈D〉内の下線部⑥の人物に関わる出来事として、誤っているものを次のア～エから1つ選び、記号で答えなさい。すべて正しければ(オ)と答えなさい。

- ア. 日韓基本条約の締結 イ. 日中共同声明の発表
- ウ. ノーベル平和賞の受賞 エ. 沖繩返還の実現

解答用紙

1

問1			問2
1	2	3	

問3			問4	問5	小計
記号	名称				

2

問1				問2	問3	問4
1	2	3	4			

問5	問6		問7	問8
	(1)	(2)		
→ → → →				

小計

3

問1	問2	問3	問4	問5

問6		小計
(1)	(2)	

受験番号	得点